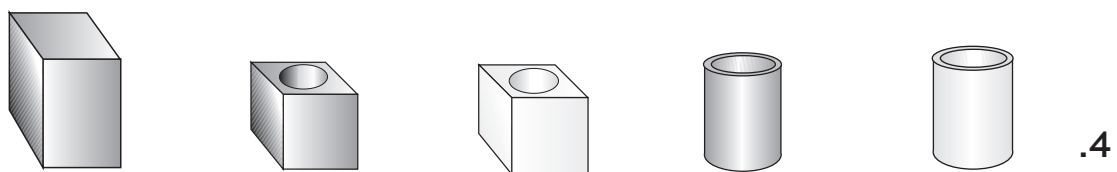




א. הקיפו בצבע כחול את השייכים לאותה המשפחה  
 ב. תנו שם לכל קבוצה



מכנה משותף = תאור של מספר חפצים  
 המשותף לכלם.

